


Vybarvi čtverečky s podstatnými jmény podle pádů:



Pokud je v rámečku dvojice slov, urči pád u slova podtrženého.

kapka	kytka	<u>plot</u> stojí	sýkora	na stole	koza	Ital	k tetě	minuta	dieta	bota	deka	drozd	noha	ruka	pod nos
<u>auto</u> jede	kůň	kočka	o koni	v pokoji	krovka	dám Pavle	lupa	krocán	bez peněz	žirafa	hudba	kniha	slepice	pod postel	mísu
piráti	hvězda	na lodi	v mrkvi	při spaní	kapsa	ke studni	tráva	u stromu	pusa	skála	Majko!	řeka	za strom	nad hlavu	na filmy
pes	v lese	s dědou	o šťěněti	na plotě	víska	k příteli	<u>měsíc</u> svítí	do kopce	<u>hoch</u> běží	pejsku!	taška	za Janou	jí chléb	pro dědu	má žízeň
v kině	po škole	na saních	v kině	o Janě	pod skříní	jede autem	za lesem	mezi ploty	s tátou	pod dekou	se psem	mezi zuby	dlátem	Honzu	před kapsu
Pavel	v puse	po obědě	na koni	o mámě	sysel	zvěři	bylina	okolo domu	<u>opice</u> skáče	babi!	ryba	tužkou	přes vlnu	za plot	pro mléko
slepýš	výr	o víle	v mrazu	po cestě	tygr	ke stromu	guma	bez oken	hruška	teta	Azore!	kobylna	odnes <u>dopis</u>	pro chodce	díru
páni	soudci	pusa	v posteli	na prstu	bedna	sestře	cesta	myška	do knihy	lev	vlna	víla	sýček	pije mléko	na Lojzu
škola	máma	sestra	přátelé	o myšce	duch	Petra	ke dveřím	Lucie	teta	kniha	pejscí	hlava	postel	býk	za dům

MATEMATIKA

1. Vypočítej písemné sčítání a proved' kontrolu:

1 285 476	976 502	693 130
<u>3 570 320</u>	<u>7 999</u>	<u>369 684</u>

2. Vypočítej písemné odčítání a proved' kontrolu:

907 152	805 278	512 678
<u>-369 684</u>	<u>-111 639</u>	<u>-108 858</u>

.....

3. Vynásob písemně:

32 568	76 248	34 602
<u>. 72</u>	<u>. 37</u>	<u>. 28</u>

4. Vypočítej dělení:

1 600 : 20 =	4 000 : 80 =
6 000 : 40 =	63 000 : 90 =
75 000 : 1 000 =	580 000 : 100 =

5. Vyděl písemně a proved' zkoušku:

278 654 : 7 =	476 024 : 6 =
---------------	---------------

6. Zapiš zlomky:

dvě třetiny

čtyři osminy

šest desetin

jedna pětina

sedm devítin

pět osmin

7. Vypočítej:

$$\frac{1}{2} \text{ z } 8 =$$

$$\frac{1}{5} \text{ z } 300 =$$

$$\frac{1}{7} \text{ z } 350 =$$

$$\frac{1}{10} \text{ ze } 700 =$$

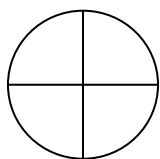
$$\frac{2}{6} \text{ z } 12 =$$

$$\frac{3}{4} \text{ z } 8 =$$

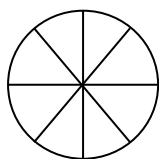
$$\frac{2}{3} \text{ z } 24 =$$

$$\frac{3}{8} \text{ z } 64 =$$

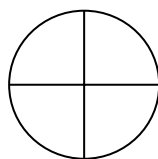
8. Vyznač barevně, jakou část z celku zlomky představují:



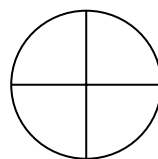
$$\frac{1}{2}$$



$$\frac{5}{8}$$



$$\frac{3}{4}$$



$$\frac{1}{4}$$

9. Jeden hrneček stojí 25 Kč. Zapiš do tabulky, kolik stojí 1, 2, 3, 4, 5, 6, 7, 8, 9, 10 hrnečků.

Počet hrnečků	1	2	3	4	5	6	7	8	9	10
cena v Kč										

10. Řeš slovní úlohu:

V naší rodině sbírají známky dědeček, tatínek a Tomáš. Dědeček má 2 560 známek, tatínek má o 1 200 známek více než dědeček, Tomáš má o 500 známek méně než tatínek. Kolik známek má tatínek? Kolik známek má Tomáš? Kolik známek mají všichni dohromady?

.....

.....

.....

.....

.....

.....

.....

.....

11. Řeš slovní úlohu:

Měsíční výdělky paní Bílé v prvním pololetí byly 17 826 Kč, 18 475 Kč, 16 990 Kč, 19 480 Kč, 16 540 Kč a 17 285 Kč. Kolik korun si vydělala paní Bílá za půl roku? Jaký je její průměrný měsíční výdělek?

.....

.....

.....

.....

.....

.....

12. Převeď jednotky:

$$5\,300 \text{ mm} = \quad \text{cm}$$

$$32\,000 \text{ g} = \quad \text{kg}$$

$$600 \text{ mm} = \quad \text{cm}$$

$$5\,000 \text{ kg} = \quad \text{t}$$

$$1\,000 \text{ cm} = \quad \text{m}$$

$$600 \text{ l} = \quad \text{hl}$$

$$9\,000 \text{ m} = \quad \text{km}$$

$$9 \text{ hl} = \quad \text{l}$$

$$180 \text{ min} = \quad \text{h}$$

$$60 \text{ s} = \quad \text{min}$$


$$1 \text{ h} = \quad \text{min}$$

$$1 \text{ min} = \quad \text{s}$$

BODY PARTS

Write the parts of the body

- Neck
- Eye
- Nose
- Finger
- Mouth
- Leg
- Ear
- Waist
- Toe
- Knee
- Foot
- Arm
- hand



Colour Bart's body as indicated:

Eye 🟡

Hand 🟢

Ear 🔵

Waist 🟠

Nose 🟤

Foot 🟣

Arm 🟡

Neck 🟠

iSLCollective.com

➤ v posledním týdnu si sami procvičujte ☺

<https://www.umimeanglicky.cz/pexeso-4-trida>

<https://www.umimeanglicky.cz/poslech-slovickek>

<https://www.umimeanglicky.cz/odkryvacka>